

平成教育委員会 2018 新春スペシャル

実力テスト

(時間 10分)

【注意事項】

1. 試験開始の合図があるまで中を開いてはいけません。
2. 試験問題は中学入試の「国語・算数・理科・社会」4教科です。
3. 解答は、各問題の右側にある枠内に記入しなさい。

名前

問 下線部が表現として適当なら○、間違っていれば×をなさい。

(国府台女子学院中)

悲鳴を聞きつけた警官は、おっとり刀で現場に駆けつけた

問 「を」をカタカナで書いた時、その画数を選びなさい。

(開成中)

A 2画 B 3画 C 4画

問 次の慣用句の□?には、ものの数え方を表す漢字一字が入ります。

その漢字を使って数えるものを選びなさい。

(攻玉社中)

流れに□?さす

A くじら B 大砲 C たんす

問 贈り物が破損しないように、衝撃を和らげる緩衝材。

江戸時代に日本から陶磁器を輸出する際、緩衝材として使われたものを選びなさい。

(國學院久我山中)

A 桜の花びら B 浮世絵 C お手玉

問 漫画『サザエさん』は、1946年～1974年まで連載が続きましました。
右の漫画は何年に描かれたか選びなさい。




(立教池袋中)

- A 1947年 (第一次ベビーブーム)
- B 1964年 (東京オリンピック)
- C 1974年 (戦後初のマイナス成長)



問 りんごの皮をむきました。
むき終わったりんごの皮を置いたとき正しいものを選びなさい。
(神奈川県立中)




- A 
- B 
- C 



問 奈良時代の役人たちが食べていたものとして ふさわしくないものを選びなさい。
(國學院久我山中)

- A タイ
- B ハマグリ
- C ジャガイモ



問 次の天気に関する言い伝えのうち雨が近いことを示すものを選びなさい。

(慶應義塾中)

- A ツバメが高く飛ぶ
- B 雲が南に向かう
- C 飛行機雲が長く続く

問 2017 に 2017 を 1 回かけると 406 万 8289 2 回かけると 82 億 573 万 8913 です。

では、2017 回かけたとき、一の位を選びなさい。

(青陵中)

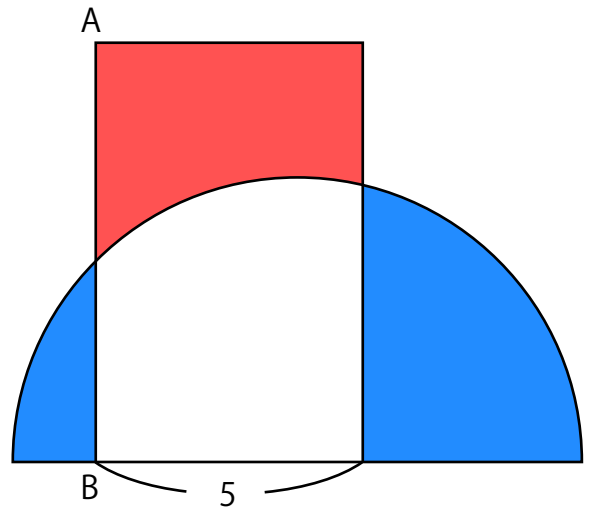
- A 7
- B 8
- C 9

問 面積が 40 の半円と、横の長さ 5 の長方形を
重ねたところ、赤い部分と青い部分の面積が
同じになりました。

このとき、長方形の縦 AB の長さを選びなさい。

ただし円周率 3.14 とする。

(昭和学院秀英中)



- A 6.28
- B 8
- C 10.5